

P2 Educação Física

P4 Educação Especial - Deficiência Visual

Instruções



Confira o número que você obteve no ato da inscrição com o que está indicado no cartão-resposta.

* A duração da prova inclui o tempo para o preenchimento do cartão-resposta.

Para fazer a prova você usará:

- **caderno de prova A** (+ B, 2ª disciplina opcional).
- **cartão-resposta** que contém o seu nome, número de inscrição e espaço para assinatura.

Verifique, no caderno de prova, se:

- faltam folhas e a sequência de questões está correta.
- há imperfeições gráficas que possam causar dúvidas.

Comunique imediatamente ao fiscal qualquer irregularidade!

Atenção!

- Não é permitido qualquer tipo de consulta durante a realização da prova.
- Para cada questão são apresentadas 5 alternativas diferentes de respostas (a, b, c, d, e). Apenas uma delas constitui a resposta correta em relação ao enunciado da questão.
- A interpretação das questões é parte integrante da prova, não sendo permitidas perguntas aos fiscais.
- Não destaque folhas da prova.

Ao terminar a prova, entregue ao fiscal o caderno de prova completo e o cartão-resposta devidamente preenchido e assinado.



24 de novembro



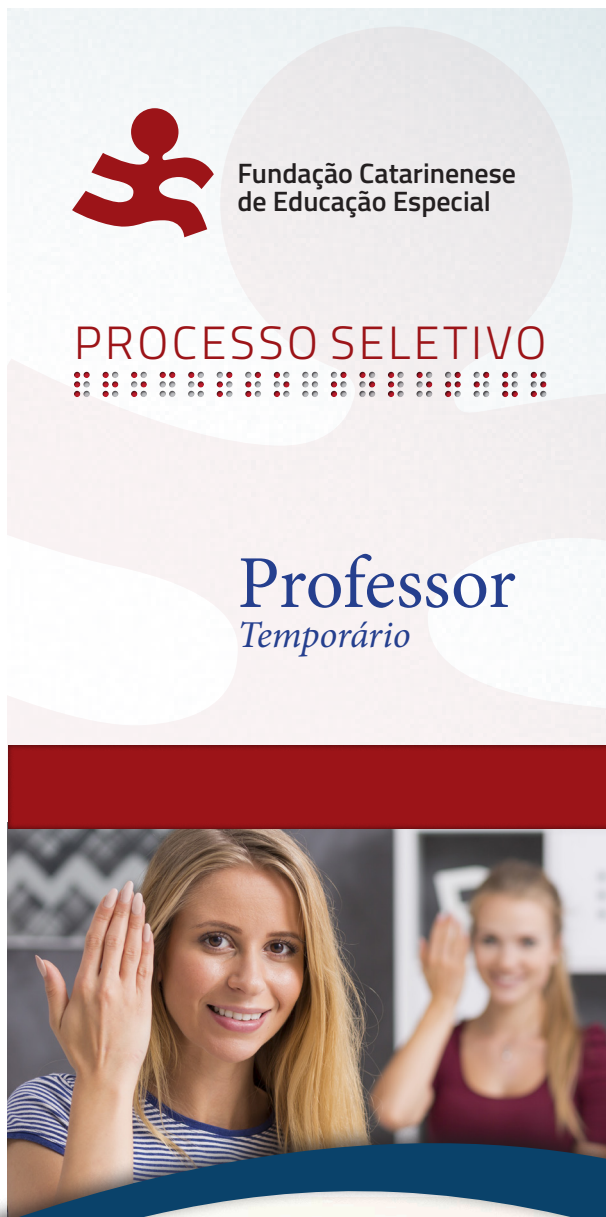
30 questões



8h30 às 13h30



5h de duração*



FEPese

FUNDAÇÃO DE ESTUDOS E PESQUISAS SOCIOECONÔMICOS

Conhecimentos Gerais

10 questões

1. A Convenção de Salamanca (1994) preconiza que a educação para as crianças, jovens e adultos com necessidades educativas especiais deve ocorrer:

- a. A partir de criação de escolas bilíngues.
- b. Em termos de ações pensadas localmente.
- c. No quadro do sistema regular de educação.
- d. A partir de ofertas em instituições especiais.
- e. No âmbito das decisões privadas de educação.

2. Analise o texto abaixo:

Na Convenção da ONU, que trata sobre os Direitos da Pessoa com Deficiência, um ponto central unânime é que se não houver significa que há discriminação, condenável do ponto de vista moral e ético e punível na forma da lei.

Assinale a alternativa que completa **corretamente** a lacuna do texto.

- a. tecnologia
- b. alimentação
- c. atendimento
- d. acessibilidade
- e. entretenimento

3. As adequações curriculares no nível da sala de aula visam a tornar possível a participação do aluno e a sua aprendizagem no ambiente da escola regular inclusiva.

Quando um currículo ou professor considera a adaptação de materiais escritos de uso comum, considerando o tamanho das letras, softwares educativos em tipo ampliado, ou textura modificada, por exemplo, está pensando no aluno com:

- a. Superdotação.
- b. Hiperatividade.
- c. Deficiência física.
- d. Deficiência auditiva.
- e. Deficiência visual.

4. Analise o texto abaixo:

Em âmbito nacional, a educação das pessoas com deficiência foi assumida pelo Governo Federal através de campanhas, e no Estado de Santa Catarina, as precursoras ideias de educação especial organizaram-se no ano de 1954, quando da visita a Florianópolis do professor João Barroso Júnior, técnico de educação do Ministério de Educação e Cultura, que veio ao Estado para divulgar o No entanto, somente em 1957 é que oficialmente se inicia o atendimento ao público na área da educação especial, com o funcionamento de uma classe especial para crianças deficientes, no Grupo Escolar Dias Velho, posteriormente denominado

Política de Educação Especial de Santa Catarina, 2009.

Assinale a alternativa que completa **corretamente** as lacunas do texto.

- a. INES, do Rio de Janeiro • Grupo Educacional Catarinense
- b. INES, do Rio de Janeiro • Grupo Escolar Barreiros Filho
- c. FENEIS, do Rio de Janeiro • Grupo Escolar Barreiros Neto
- d. FENEIS, de São Paulo • Grupo Educacional Catarinense
- e. FENEIDA, de São Paulo • Grupo Especial da Capital

5. A Política Nacional de Educação Especial na Perspectiva da Educação Inclusiva tem como objetivo o acesso, a participação e a aprendizagem dos estudantes com deficiência, transtornos globais do desenvolvimento e altas habilidades/superdotação nas escolas regulares, orientando os sistemas de ensino para promover respostas às necessidades educacionais, garantindo, por exemplo, a:

- a. Multidisciplinaridade da educação inclusiva em situações com alta demanda de alunos.
- b. Multidisciplinaridade da educação inclusiva em situações pontuais e em níveis superiores.
- c. Interdisciplinaridade da educação especial na educação básica em níveis iniciais por demanda.
- d. Transversalidade da educação especial desde a educação infantil até a educação superior.
- e. Transversalidade da educação especial desde a educação infantil até o ensino médio.

6. Conforme Política de Educação Especial de Santa Catarina (2009), os atendimentos em educação especial, direcionados aos educandos da rede regular de ensino, terão caráter de apoio, complemento ou suplemento.

Identifique abaixo as afirmativas verdadeiras (V) e as falsas (F) para as possibilidades dos serviços.

- () Serviço de Atendimento Educacional Especializado (SAEDE) e Serviço de Atendimento Especializado (SAESP).
- () Professor de educação especial nas turmas de todas as etapas e modalidades da Educação Básica, nas quais estiverem matriculados educandos com diagnóstico de condutas típicas ou com severos comprometimentos motores.
- () Acompanhante terapêutico, da área da saúde, aos educandos que necessitarem de atendimento individualizado em função de necessidades específicas.

Assinale a alternativa que indica a sequência **correta**, de cima para baixo.

- a. V • V • V
- b. V • V • F
- c. V • F • V
- d. F • V • V
- e. F • V • F

7. A Resolução 100/2016/CEE/SC estabelece, em seu art. 2º, que “as mantenedoras das escolas de educação básica do Sistema Estadual de Ensino deverão disponibilizar Serviços Especializados em Educação Especial, quando necessário”.

Uma destas especialidades é o *professor bilíngue*, que será disponibilizado aos:

- a. alunos ouvintes não usuários da Libras, sem fluência.
- b. pais ouvintes usuários da Libras como 1ª língua, com fluência.
- c. alunos com surdez usuários da Libras como 1ª língua, sem fluência.
- d. professores com surdez usuários da Libras como 2ª língua, sem fluência.
- e. membros da comunidade, usuários ou não da Libras, com ou sem fluência.

8. De acordo com a Política de Educação Especial de Santa Catarina (2009), no ano de 1977, a FCEE elaborou e executou, em parceria com o CENESP, o projeto-piloto voltado à montagem curricular em Santa Catarina, com o objetivo de:

- a. Implantar classes regulares nas instituições especiais de ensino.
- b. Implantar classes especiais nas escolas de ensino regular.
- c. Aprimorar classes especiais nas escolas alternativas.
- d. Desenvolver projetos de assistência aos deficientes em suas residências.
- e. Apoiar eventos voltados à mobilidade dos deficientes físicos.

9. Analise o texto abaixo:

A educação especial se organizou tradicionalmente como atendimento educacional especializado substitutivo ao, evidenciando diferentes compreensões, terminologias e modalidades que levaram à criação de instituições especializadas, escolas especiais e classes especiais.

Política Nacional de Educação Especial/MEC/SECADI

Assinale a alternativa que completa **corretamente** a lacuna do texto.

- a. Ensino comum
- b. Ensino inclusivo
- c. Contexto de APAEs
- d. Atendimento médico
- e. Contexto de filantropia

10. Novos paradigmas com vistas à garantia de direitos, respeito à diversidade e cidadania das pessoas com deficiência, culminaram com movimentos sociais para inclusão, referendados a partir de 1990, em evento realizado na cidade de Jomtien, Tailândia.

Assinale a alternativa que indica **corretamente** esse evento.

- a. Congresso Mundial sobre Deficiências na Escola.
- b. Congresso por uma Educação Especial Global.
- c. Convenção sobre Necessidades Educacionais Especiais.
- d. Conferência Internacional sobre Educação Especial.
- e. Conferência Mundial sobre Educação para Todos.

Conhecimentos Específicos Educação Física

10 questões

11. Analise o texto abaixo:

De acordo com a Política de Educação Especial de Santa Catarina (2009), "a criação, nos Estados Unidos, da National Association for Retarded Children – NARC/EUA, exerceu forte influência em vários países inspirando, no Brasil, a criação da que, em 1954, era instituída na cidade do Rio de Janeiro. No Estado de Santa Catarina, a primeira foi organizada em 1955, no município de Brusque."

Assinale a alternativa que completa **corretamente** a lacuna do texto.

- a. Associação de Pais e Amigos dos Excepcionais
- b. Associação de Professores para o Atendimento Excepcional
- c. Fundação de Crianças Especiais Catarinenses
- d. Fundação dos Alunos Excepcionais de Santa Catarina
- e. Agremiação de Pais e Professores dos Excepcionais

12. O atendimento educacional especializado deve, conforme o Decreto nº 7611/2011, "integrar a proposta pedagógica da escola, envolver a participação da família para garantir pleno acesso e participação dos estudantes, atender às necessidades específicas das pessoas público-alvo da educação especial, e ser realizado em articulação com as demais políticas públicas".

Identifique abaixo as afirmativas verdadeiras (V) e as falsas (F) considerando os objetivos do AEE prescritos no Decreto.

- () Prover condições de acesso, participação e aprendizagem no ensino regular e garantir serviços de apoio especializados de acordo com as necessidades comuns e universais entre os estudantes.
- () Garantir a transversalidade das ações da educação especial no ensino particular e individual para o desenvolvimento integral da turma.
- () Fomentar o desenvolvimento de recursos didáticos e pedagógicos que eliminem as barreiras no processo de ensino e aprendizagem.
- () Assegurar condições para a continuidade de estudos nos demais níveis, etapas e modalidades de ensino.

Assinale a alternativa que indica a sequência **correta**, de cima para baixo.

- a. V•V•V•V
- b. V•V•V•F
- c. V•F•V•V
- d. F•V•V•V
- e. F•F•V•V

13. “A fundamentação científica para a prescrição de exercícios é decorrente de estudos experimentais de curta duração e desenvolvidos quase sempre com homens jovens e saudáveis” (NAHAS, 2013).

Qual a recomendação de atividades físicas para promoção da saúde e prevenção de doenças?

- a. O gasto energético diário em atividades laborais deve ser superior a 1000 kcal.
- b. Uma criança deve acumular de 1500 a 3000 kcal de atividades físicas vigorosas (3-6 METs).
- c. Doses moderadas de atividades físicas, realizadas na maioria dos dias da semana.
- d. 1500 minutos por mês de atividades físicas moderadas.
- e. 30 minutos por semana, podendo ser de forma acumulada ou em duas ou três vezes ao longo do dia.

14. “A força muscular é definida como a máxima força exercida por um músculo ou grupo muscular em uma velocidade determinada” (ROBERGS & ROBERGS, 2002).

Identifique abaixo as afirmativas verdadeiras (V) e as falsas (F) em relação ao assunto.

- () A força muscular pode ser medida durante cada tipo de contração muscular.
- () Dinamômetro é um equipamento para medição da força dinâmica.
- () A força isotônica é tipicamente medida pela máxima quantidade de peso que pode ser levantada em uma repetição.
- () A força é específica do músculo que está sendo testado, não havendo testes específicos para acessar a força muscular total.
- () Medidas isocinéticas de força podem ocorrer em diferentes velocidades de contração.

Assinale a alternativa que indica a sequência **correta**, de cima para baixo.

- a. V • V • V • F • F
- b. V • F • V • V • V
- c. V • F • F • F • V
- d. F • V • V • F • V
- e. F • V • F • V • V

15. “A flexibilidade é um dos componentes da aptidão física relacionada à saúde” (NAHAS, 2013).

Assinale a alternativa **correta** com relação à flexibilidade.

- a. Depende apenas da elasticidade dos músculos.
- b. Exercícios de musculação reduzem drasticamente a flexibilidade.
- c. Capacidade de uma articulação em realizar repetidas contrações sem diminuir a eficiência do trabalho realizado.
- d. Refere-se ao grau de amplitude nos movimentos articulares.
- e. Não é específica para cada articulação, pois depende da elasticidade do músculo exclusivamente.

16. “Os jogos pré-desportivos são utilizados para a iniciação desportiva” (GASPAR & BARREIROS, 2014).

Analise as afirmativas abaixo sobre os jogos pré-desportivos.

1. Têm como principal característica a ludicidade.
2. São importantes para aprimorar as habilidades sociais dos participantes, incentivando o trabalho em equipe.
3. São variações de jogos que ajudam a treinar as capacidades motoras, táticas e físicas dos participantes para determinado esporte.
4. Devem ser utilizados somente como um treino dos movimentos básicos necessários para uma modalidade esportiva.
5. São práticas esportivizadas que não contribuem para a aquisição de um novo conhecimento, pois estão pautadas no ensino do gesto técnico de determinada modalidade.

Assinale a alternativa que indica todas as afirmativas **corretas**.

- a. São corretas apenas as afirmativas 1, 2 e 3.
- b. São corretas apenas as afirmativas 1, 3 e 5.
- c. São corretas apenas as afirmativas 2, 3 e 4.
- d. São corretas apenas as afirmativas 2, 4 e 5.
- e. São corretas apenas as afirmativas 3, 4 e 5.

17. "Aptidão Física Relacionada à Saúde é, pois, a própria aptidão para a vida" (NAHAS, 2013).

Assinale a alternativa que contém **todos** os componentes da Aptidão Física Relacionada à Saúde.

- a. Agilidade, equilíbrio, velocidade e resistência anaeróbica.
- b. Força e resistência muscular, agilidade e composição corporal.
- c. Força e resistência muscular, flexibilidade, resistência aeróbica e composição corporal.
- d. Composição corporal, agilidade, velocidade e equilíbrio.
- e. Agilidade, resistência muscular, velocidade e composição corporal.

18. "Esquema corporal é a consciência do corpo como meio de comunicação consigo mesmo e com o meio" (WALLON, 1074).

Assinale a alternativa **correta** em relação ao Esquema Corporal.

- a. É um conceito aprendido e dependente de treinamento.
- b. É um elemento básico indispensável para a formação da personalidade da criança.
- c. É uma construção mental que deve ser treinada desde o nascimento.
- d. Não se organiza pela experiência, pois se trata de uma característica herdada dos genitores.
- e. Não está relacionado com as experiências que possuímos provenientes do corpo e das sensações que experimentamos.

19. "O jogo é a atividade praticada em grupo ou individualmente, a partir de regras predeterminadas; para crianças, é uma excelente estratégia para socialização e ensino/ aprendizagem" (REZENDE, 2014).

Identifique abaixo as afirmativas verdadeiras (V) e as falsas (F) com relação aos jogos recreativos e sensoriais.

- () São usados com o intuito de auxiliar a criança a explorar a si mesma e o mundo que a cerca.
- () A abordagem deve ser feita em conjunto com as habilidades e o envolvimento dos domínios do esquema corporal, da coordenação motora, da relação espaço-tempo e da lateralidade.
- () Contribuem no desenvolvimento das crianças para a exploração e experimentação com o corpo, brinquedos e o meio ambiente.
- () Estes jogos são aqueles que ajudam a criança a exercitar e desenvolver os cinco sentidos (tato, paladar, olfato, visão e audição).
- () Os jogos sensoriais são fundamentais, por contribuir para a formação do futuro na vida adulta.

Assinale a alternativa que indica a sequência **correta**, de cima para baixo.

- a. V • V • V • V • V
- b. V • V • V • F • F
- c. V • F • V • F • F
- d. F • V • V • F • F
- e. F • V • F • V • V

20. Associe a coluna 1 com os conceitos apresentados na coluna 2.

Coluna 1 Componentes da Aptidão Física

1. Equilíbrio
2. Ritmo
3. Agilidade
4. Coordenação motora

Coluna 2 Conceitos

- () É a capacidade de realizar movimentos de curta duração e alta intensidade com mudanças de direção e alterações na altura do centro de gravidade do corpo, com aceleração e desaceleração.
- () É a capacidade do corpo em assumir e sustentar qualquer posição contra o efeito da gravidade.
- () Interação sincronizada entre o sistema nervoso central e a musculatura esquelética.
- () Capacidade de adaptar-se a uma sequência de movimentos, interiorizando-a e reproduzindo-a de forma repetitiva.

Assinale a alternativa que indica a sequência **correta**, de cima para baixo.

- a. 1 • 2 • 3 • 4
- b. 2 • 3 • 1 • 4
- c. 2 • 4 • 1 • 3
- d. 3 • 1 • 4 • 2
- e. 4 • 3 • 2 • 1


**Conhecimentos Específicos
Educação Especial -
Deficiência Visual**

10 questões

21. No contexto inclusivo, sobre o Atendimento Educacional Especializado (AEE), é **correto** afirmar:


- a. Introduce novos conhecimentos para garantir a compensação na formação do aluno deficiente.
- b. Complementa a formação do aluno deficiente com vistas à autonomia na escola e fora dela.
- c. Reforça conteúdos escolares com vistas ao desenvolvimento psicossocial e motor do aluno dentro da escola.
- d. Avalia conteúdos escolares dando ao aluno deficiente possibilidades de estudar isoladamente da turma regular.
- e. Repete os conteúdos escolares, considerando a dificuldade que deficientes têm na fixação de conhecimentos.

22. A representação em Braille ao lado refere-se à pontuação/sinal acessório de:




- a. Barra.
- b. Dois pontos.
- c. Ponto e vírgula.
- d. Asterisco.
- e. Vírgula.

23. Considerando a representação em Braille ao lado, assinale a alternativa que corresponde à letra **correta**.



- a. "D"
- b. "F"
- c. "L"
- d. "M"
- e. "V"

24. Leia a re-presentação numérica em Braille ao lado, e assinale a alternativa **correta**.



- a. 3
b. 5
c. 6
d. 8
e. 10

25. Na grafia Braille, o c com cedilha (ç) é representado pelo sinal que contém a sequência:

- a. 0 1 2 3 4
b. 1 2 3 4 5
c. 1 2 3 4 6
d. 1 2 4 5 6
e. 2 3 4 5 6

26. O Decreto nº 7612/2011, em seu art. 4º, apresenta quatro eixos de atuação do Plano Viver sem Limite. São eles:

- a. Acesso à moradia, cuidados da saúde, inclusão escolar e locomoção.
b. Acesso à educação, atenção à saúde, inclusão social e acessibilidade.
c. Atenção escolar, inclusão social, acessibilidade e políticas de locomoção.
d. Inclusão social, reforço escolar, direito de locomoção e acessibilidade.
e. Atendimento à saúde, cuidados com a higiene, educação especial e acessibilidade.

27. O dever do Estado com a educação das pessoas público-alvo da educação especial será efetivado de acordo com algumas diretrizes (cf. Decreto nº 7611/2011, art. 1º).

Identifique abaixo as afirmativas verdadeiras (V) e as falsas (F) em relação às citadas diretrizes.

- () Oferta de apoio necessário, no âmbito do sistema educacional geral, com vistas a facilitar sua efetiva educação.
() Adoção de medidas de apoio individualizadas e efetivas, em ambientes que maximizem o desenvolvimento acadêmico e social, de acordo com a meta de inclusão plena.
() Oferta de educação especial preferencialmente na rede regular de ensino.
() Apoio técnico e financeiro pelo Poder Público às instituições privadas sem fins lucrativos, especializadas e com atuação exclusiva em educação especial.

Assinale a alternativa que indica a sequência **correta**, de cima para baixo.

- a. V•V•V•V
b. V•V•F•F
c. V•F•V•F
d. V•F•F•V
e. F•V•V•V

28. Analise o texto abaixo:

Pessoas com *baixa visão* têm mais facilidade de distinguir cores , ajudando-o a distinguir detalhes, sobretudo se a cor é um fator importante da própria figura.

Assinale a alternativa que completa **corretamente** a lacuna do texto.

- a. pastéis e as primárias
b. pastéis e as secundárias
c. vibrantes e as secundárias
d. vibrantes e as primárias
e. neutras e as terciárias

29. É **correto** afirmar sobre a *cegueira* que (BRASIL/MEC, 2010, Fascículo 3):

- a. A ausência da visão durante os primeiros anos de vida é considerada congênita.
- b. Os cegos são hábeis em reconhecer as cores e o dinheiro pelo tato.
- c. A criança cega tem mais facilidade de estabelecer relações entre sons, ruídos de modo espontâneo e natural.
- d. A perda de visão conhecida como adventícia se dá por implicações genéticas e hereditárias.
- e. Uma minoria de pessoas cegas apresenta algum resíduo de visão funcional.

30. Identifique abaixo as afirmativas verdadeiras (V) e as falsas (F) em relação ao sistema Braille.

- () Sinal fundamental, refere-se ao processo de digitação periférico.
- () São sinais formados por pontos a partir do conjunto de 8 linhas.
- () O arranjo dos pontos em Braille aparece em relevo.
- () O sistema Braille tem duas colunas de três pontos cada.

Assinale a alternativa que indica a sequência **correta**, de cima para baixo.

- a. V•F•V•F
- b. V•F•F•V
- c. F•V•V•V
- d. F•V•F•V
- e. F•F•V•V

Coluna em Branco. (rascunho)

GRADE DE RESPOSTAS

Utilize a grade ao lado para anotar as suas respostas.

Não destaque esta folha. Ao entregar sua prova, o fiscal irá destacar e entregar esta grade de respostas que você poderá levar para posterior conferência.



1		P2 Educação Física / P4 Educação Especial - Deficiência Visual	16	
2			17	
3			18	
4			19	
5			20	
6			21	
7			22	
8			23	
9			24	
10			25	
11			26	
12			27	
13			28	
14			29	
15			30	



Fundação Catarinense
de Educação Especial

PROCESSO SELETIVO



Professor
Temporário





FUNDAÇÃO DE ESTUDOS E PESQUISAS SOCIOECONÔMICOS

Campus Universitário • UFSC
88040-900 • Florianópolis • SC
Fone/Fax: (48) 3953-1000
<http://www.fepese.org.br>